

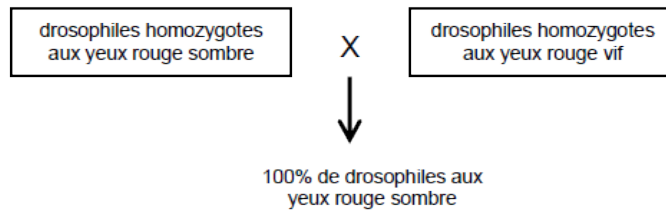
EXERCICE 2A (2^{ème} partie, exercice 1) – 3 points

La majorité des drosophiles a les yeux rouges mais il existe plusieurs variations de cette couleur dans les populations.

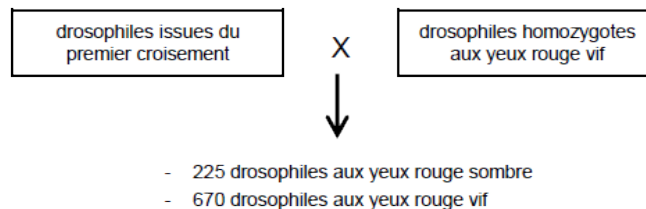
On formule l'hypothèse que la couleur rouge des yeux est gouvernée par un seul gène. À partir des informations extraites du document, validez ou invalidez cette hypothèse.

Document : croisements entre drosophiles aux yeux rouges.

croisement 1



croisement 2



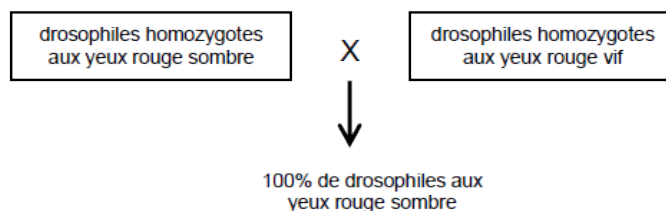
EXERCICE 2A (2^{ème} partie, exercice 1) – 3 points

La majorité des drosophiles a les yeux rouges mais il existe plusieurs variations de cette couleur dans les populations.

On formule l'hypothèse que la couleur rouge des yeux est gouvernée par un seul gène. À partir des informations extraites du document, validez ou invalidez cette hypothèse.

Document : croisements entre drosophiles aux yeux rouges.

croisement 1



croisement 2

