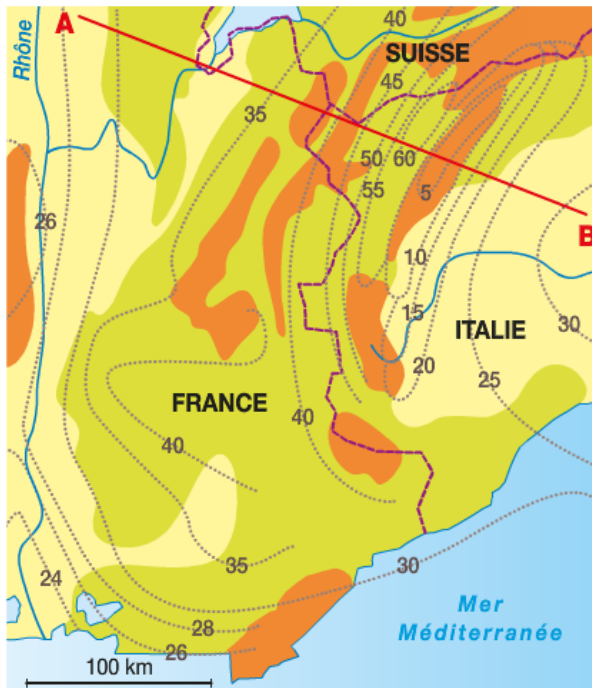


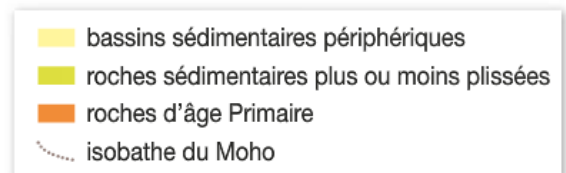
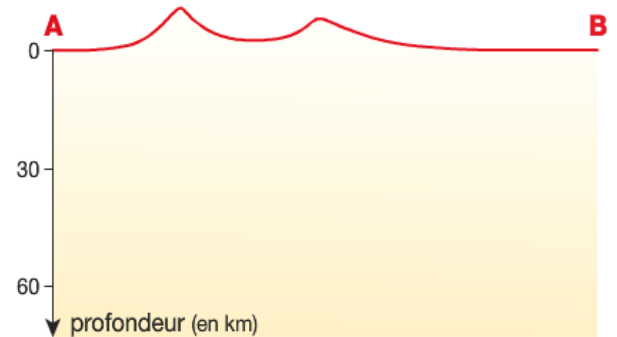
11 Le Moho sous les Alpes Extraire des informations, raisonner

QUESTION :

Après avoir tracé le Moho au niveau de la coupe AB, justifiez que le modèle « d'isostasie » d'Airy ait été retenu pour la lithosphère continentale.



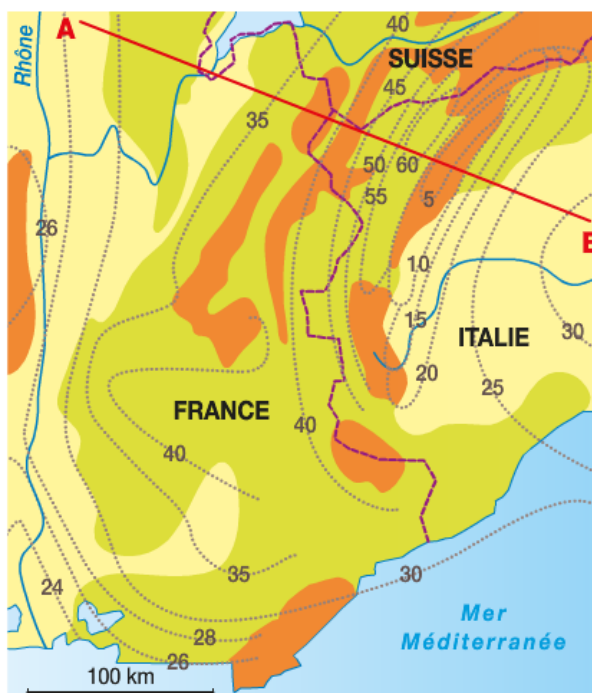
Isobathes (lignes d'égale profondeur, en km) du Moho, sous les Alpes occidentales



11 Le Moho sous les Alpes Extraire des informations, raisonner

QUESTION :

Après avoir tracé le Moho au niveau de la coupe AB, justifiez que le modèle « d'isostasie » d'Airy ait été retenu pour la lithosphère continentale.



Isobathes (lignes d'égale profondeur, en km) du Moho, sous les Alpes occidentales

